



República Bolivariana de Venezuela
Ministerio para el Poder Popular de la Educación
Unidad Educativa “Nuestra Señora de Lourdes”

Actividades de 1er grado A

Docente: Rosiely González

¡CUIDENSE MUCHO!



SEMANA DEL 11/05 AL 22/05/2020

Indicaciones:

- Realizar cuidadosamente las actividades asignadas.
- Lavarse las manos con agua y jabón antes de comenzar las actividades.
- Tener a la mano lápiz, colores, sacapuntas, borra, entre otros.
- Hacer las tareas en un ambiente bien iluminado.
- Se recomienda revisar el material a trabajar y ofrecer al niño una explicación previa de lo que debe hacer, promover los buenos hábitos de trabajo y realizarlos en orden y aseado.
- Las asignaciones deben ser orientados por un adulto.
- Las actividades deben ser escritas en letra cursiva.
- Elogiar el desempeño, reconocer su esfuerzo y dedicación.

LUNES 11/05/2020

Área Lengua: Los Sustantivos



Actividad: Recorta de revistas viejas 5 palabras que sean sustantivos comunes y 5 palabras que sean sustantivos propios, luego pégalas en tu cuaderno de lengua.



SUSTANTIVOS
COMUNES



SUSTANTIVOS
PROPIOS

Área Sociales:

Folklore del Estado Anzoátegui

El folklore del estado se caracteriza por la variedad de bailes tradicionales, los que más se destacan son:

***El Maremare Indígena:** Es una de las danzas más populares de la región, es un baile colectivo, grupal, para estrechar las relaciones del grupo.

***El Carite:** Constituye una diversión y se realiza en torno a la pesca. En ella participan hombres y mujeres quienes forman una comparsa y bailan al son de la música.

***El Pájaro Guarandol:** Su tema central es la cacería del ave, el ruego para que no lo maten y la intervención del brujo para resucitarlo.


***El Sebucán:** Una de las danzas más populares y más conocidas en el resto del país. Consiste en un baile ejecutado por un grupo de hombres y mujeres, alrededor de un palo de cintas, tejiendo y destejiendo el palo de esta manera.

Actividad: Escribe en el cuaderno de sociales, el nombre de cada una de las imágenes que se presentan a continuación:










Martes 12/05/2020

Área Matemática:

*La Sustracción: También conocida como resta, es una operación que consiste en quitar, sacar algo de un todo. La resta se utiliza para calcular la diferencia que hay entre dos números, el minuendo y el sustraendo. Ejemplo:















Partes de la Sustracción o resta

Minuendo es el número que se va restar (que va a disminuir)
Sustraendo es el número que va a quitar (sustraer).
Diferencia es el resultado de la operación.



Actividad: Resuelve en tu cuaderno de matemática ¿Cuántos quedan en cada caso? Sigue el ejemplo:

 $8 - 4 = 4$	 $9 - 6 = \underline{\quad}$
 $7 - 5 = \underline{\quad}$	 $10 - 3 = \underline{\quad}$
 $9 - 3 = \underline{\quad}$	 $4 - 1 = \underline{\quad}$
 $6 - 3 = \underline{\quad}$	 $7 - 5 = \underline{\quad}$
 $7 - 2 = \underline{\quad}$	 $7 - 4 = \underline{\quad}$
 $5 - 4 = \underline{\quad}$	 $8 - 6 = \underline{\quad}$

Área Comprensión Lectora:

Día de la Enfermera y Enfermero



Se celebra el 12 de mayo de cada año. Se escogió ese día con la intención de recordar el nacimiento de Florence Nightingale, ya que fué considerada como la creadora de la enfermería moderna.

Las enfermeras o enfermeros son personas dedicadas a un trabajo que muchas veces los hacen vivir experiencias difíciles, dolorosas, por ello tienen que tener un gran corazón para hacerlo con amor.

Actividad: Busca en la sopa de letras las palabras que definen como son y la labor tan importante que realiza un profesional de la enfermería en la sociedad.

Humanos – Pacientes – Salud – Sensibles – Servicio – Amables – Alegres – Amor.

S	E	N	S	I	B	L	E	S	X
H	F	G	A	L	E	G	R	E	S
U	L	P	L	R	Y	W	Q	K	P
M	J	U	U	Ñ	O	A	M	O	R
A	K	W	D	J	P	Y	W	K	P
N	A	M	A	B	L	E	S	Ñ	F
O	P	A	C	I	E	N	T	E	S
S	E	R	V	I	C	I	O	K	R

Miércoles 13/05/2020

Área Lengua:

Actividad: Lee cada una de las oraciones y subraya con el color de tu preferencia todos los sustantivos que descubras. Después escríbelos en tu cuaderno de lengua, y clasifica cuáles son los sustantivos comunes y cuáles son sustantivos propios.

- 1.- La computadora de Pedro no funciona.
- 2.- El Orinoco es un río muy extenso.
- 3.- Hilda y Hugo son hermanos.
- 4.- Mi prima se llama Carolina.
- 5.- Venezuela es un hermoso país.

SUSTANTIVOS COMUNES	SUSTANTIVOS PROPIOS

Jueves 14/05/2020

Área Matemática:

Actividad: En tu cuaderno de matemática:

1.- Hacer los números del 800 al 850.

2.- Ordena y resuelve las siguientes sustracciones:

a.- $786 - 521 =$

b.- $593 - 211 =$

c.- $682 - 501 =$

d.- $872 - 352 =$

e.- $356 - 100 =$



Área Ciencias:

1

El ciclo del agua.

Es:

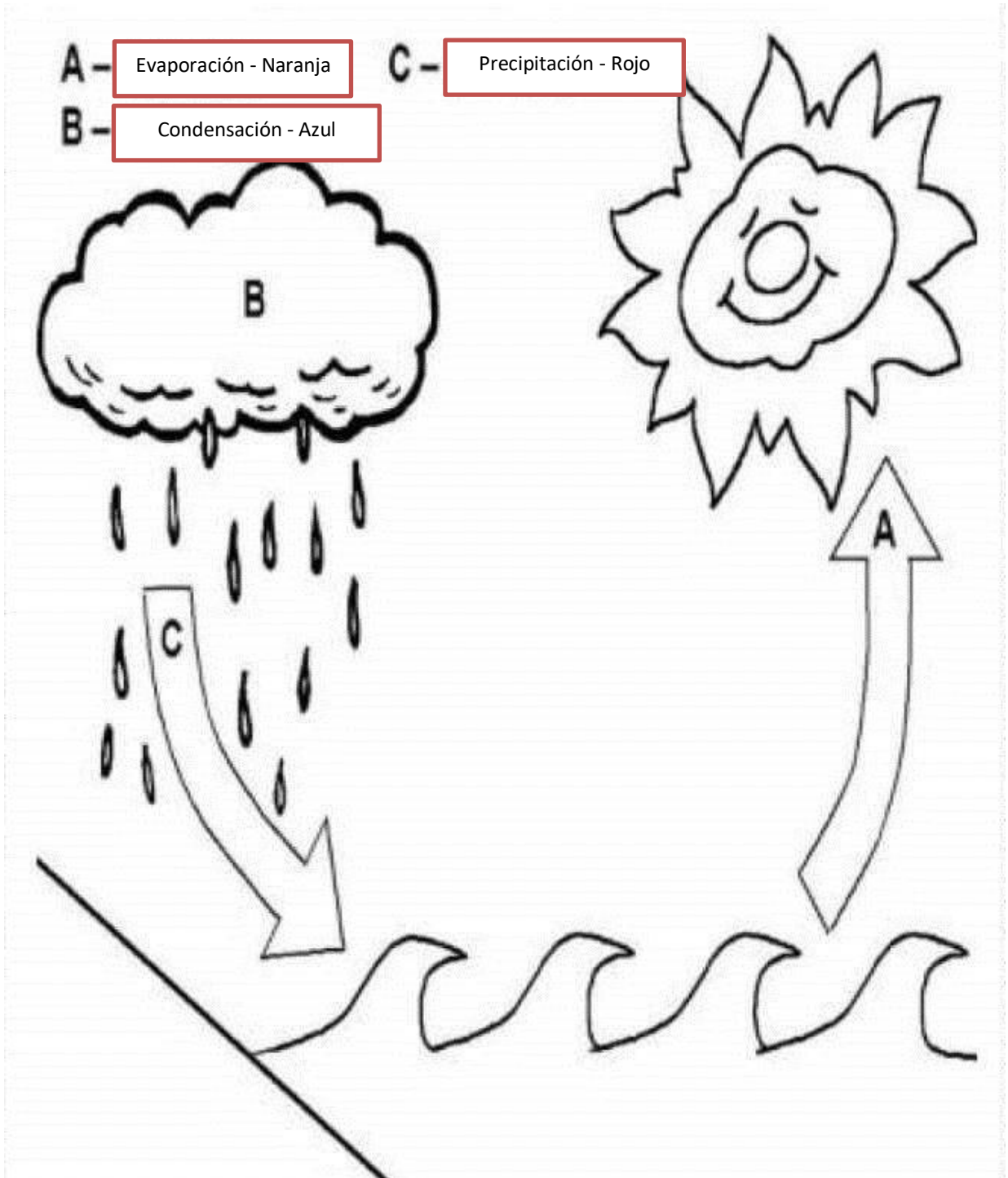
- El camino circular que el agua sigue en la naturaleza.
- No se detiene nunca.
- En ese camino, el agua cambia de estado y de lugar.

Tiene tres fases:

- **Evaporación:** El sol calienta el agua líquida del mar, ríos y lagos. Parte de este agua se evapora y se transforma en **vapor de agua**.
- **Condensación:** El vapor de agua se enfría y se forman gotitas de agua (**las nubes**).
- **Precipitación:** El agua de las nubes cae en forma de **lluvia, nieve o granizo**. Este agua llega a los arroyos, ríos, mares y aguas subterráneas.



Actividad: En una hoja blanca colorea el proceso que hace el agua como se te indique. Luego pégala en tu cuaderno de ciencias.



Viernes 15/05/2020

Área Matemática:

Actividad: En tu cuaderno de matemática, resuelve las siguientes sustracciones y colorea los globos de acuerdo al resultado obtenido:

1.- **957 - 125**

2.- **781 - 531**

3.- **945 - 424**

832

250

521





Área Educación Estética:

El Día Internacional de la Familia

Se celebra el 15 de mayo. Este día fue proclamado por la Asamblea General de las Naciones Unidas en 1994, considerando que el núcleo familiar es parte importante en los procesos sociales, demográficos y económicos. La Organización de las Naciones Unidas promueve el Día Internacional de la Familia a nivel mundial.

Actividad:

MI FAMILIA

Este es tu árbol genealógico. Haz un dibujo o pega una foto de tus familiares en el lugar correspondiente y escribe su nombre debajo.

The diagram is a family tree with seven circular nodes arranged in three rows. Each node has a ribbon below it for writing a name. The top row has four nodes labeled 'ABUELO', 'ABUELA', 'ABUELO', and 'ABUELA'. The middle row has four nodes; the first and last are labeled 'TÍ...', the second is 'MAMÁ', and the third is 'PAPÁ'. The bottom row has three nodes; the first and last are labeled 'MI HERMAN...', and the middle one is 'YO'. The tree is decorated with stylized trees and clouds.

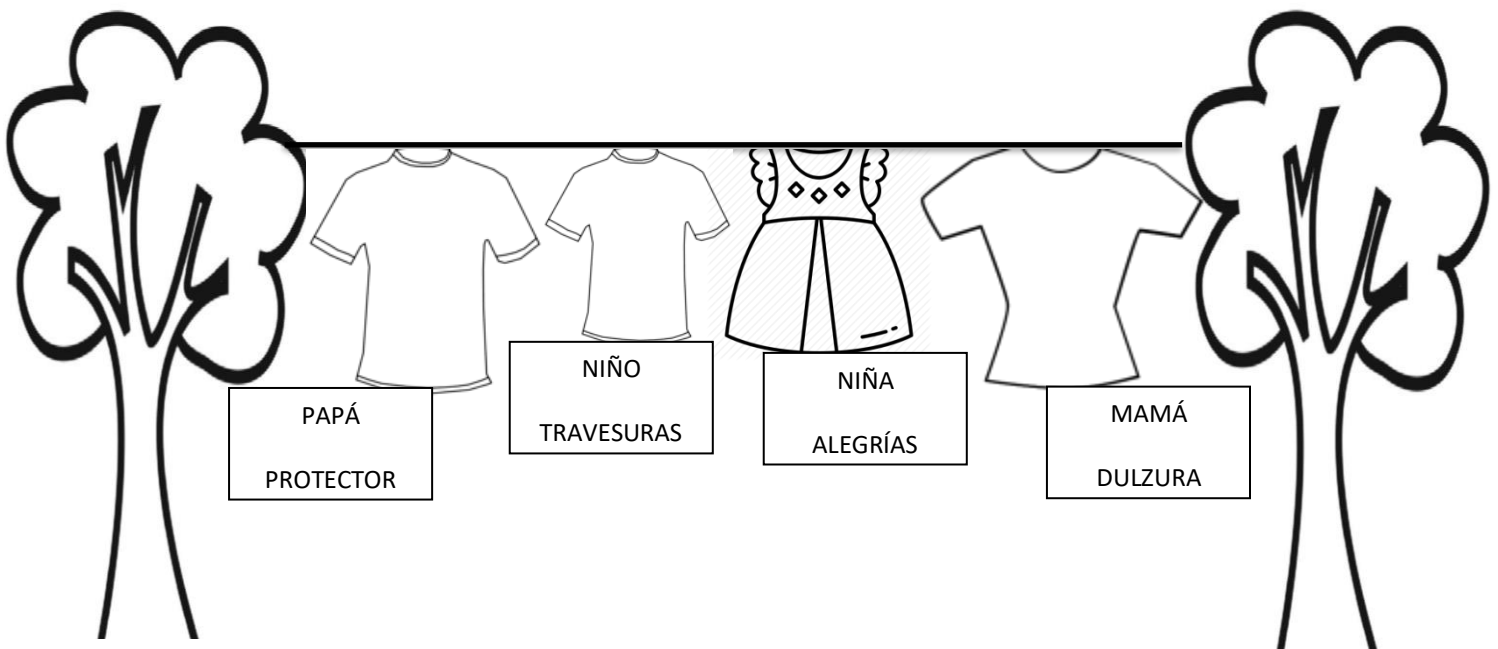
ACTIVIDAD ESPECIAL

DIA INTERNACIONAL DE LA FAMILIA

El Tendedero de la Familia

Elabora con tu familia un tendedero con el material que tengas en casa. Encima de cada prenda de vestir deben escribir una palabra que identifique a cada uno de los miembros. Tómense una foto mostrando su hermoso y creativo trabajo y la comparten por el grupo del salón el viernes 15-05-2020

Ejemplo:



LUNES 18/05/2020

Área Lengua: Los Adjetivos:

Los adjetivos son palabras que nos dicen cómo son o cómo están las personas, los animales y las cosas. Acompañan a los sustantivos.

Ejemplos:

- 1.- La libreta es **roja**
- 2.- La maleta es **grande**
- 3.- La señora es **elegante**

Actividad: En tu cuaderno de lengua, copia las siguientes oraciones y subraya los adjetivos que encuentres en cada una:

- 1.- El niño es inteligente.
- 2.- La maestra es buena.
- 3.- La fiesta está divertida.
- 5.- La torta está deliciosa.
- 6.- La niña es hermosa.
- 7.- El perro es bravo.



Área Atención y Concentración

Actividad: Completa el cuadro de abajo guiándote por el de arriba.

i	e	e	c	i	i	c	b	a	e	d	d
d	a	i	j	b	e	b	e	g	h	a	i
b	i	b	j	d	f	a	e	a	i	e	g
e	e	f	c	d	c	c	a	a	h	h	f

i		e		i	i		b	a		d	
	a		j	b		b		g	h		i
b	i	b			f	a	e			e	
		f	c	d			a	a	h		f

Martes 19/05/2020

Área Matemática: Adición llevando

SUMAS CON LLEVADAS

PASOS:

1. Sumamos las cifras de la derecha, las unidades.
2. El resultado es 12. Ponemos la unidad, el 2 debajo.
3. El 1 que nos ha sobrado, lo ponemos en el sitio de las decenas.
4. Sumamos las decenas y escribimos debajo el resultado.

¡YA HEMOS RESUELTO NUESTRA SUMA!

Ejemplos ①

$$\begin{array}{r} 56 + \\ \underline{14} \\ 70 \end{array}$$

①

$$\begin{array}{r} 29 + \\ \underline{35} \\ 64 \end{array}$$

①

$$\begin{array}{r} 48 + \\ \underline{25} \\ 73 \end{array}$$

Actividad: En tu cuaderno de matemáticas, resuelve los siguientes ejercicios:

1.- $28 + 13 =$

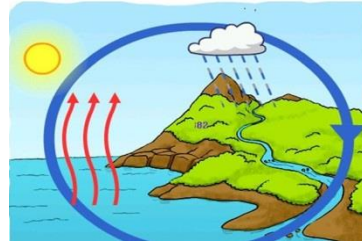
2.- $16 + 25 =$

3.- $48 + 28 =$

4.- $35 + 25 =$



El ciclo del agua



Área Ciencias Naturales:

El Ciclo del Agua o Ciclo Hidrológico:

Se conoce como ciclo del agua a los cambios que ella tiene atravesando por los tres estados: líquido, sólido y gaseoso.

Actividad: En tu cuaderno de ciencias, dibuja o recorta y pega imágenes alusivas a los tres estados que pasa el agua durante el ciclo hidrológico.

SÓLIDO



LÍQUIDO



GASEOSO



Miércoles 20/05/2020

Área Lengua: Los Adjetivos



Actividad: En tu cuaderno de lengua, copia las siguientes oraciones y complétalas con los adjetivos que consideres.

1.- Las manzanas son _____

2.- El cielo es _____

3.- Mi mamá es _____

4.- La tarea es muy _____

5.- Mis amigos son _____

6.- María es una niña muy _____

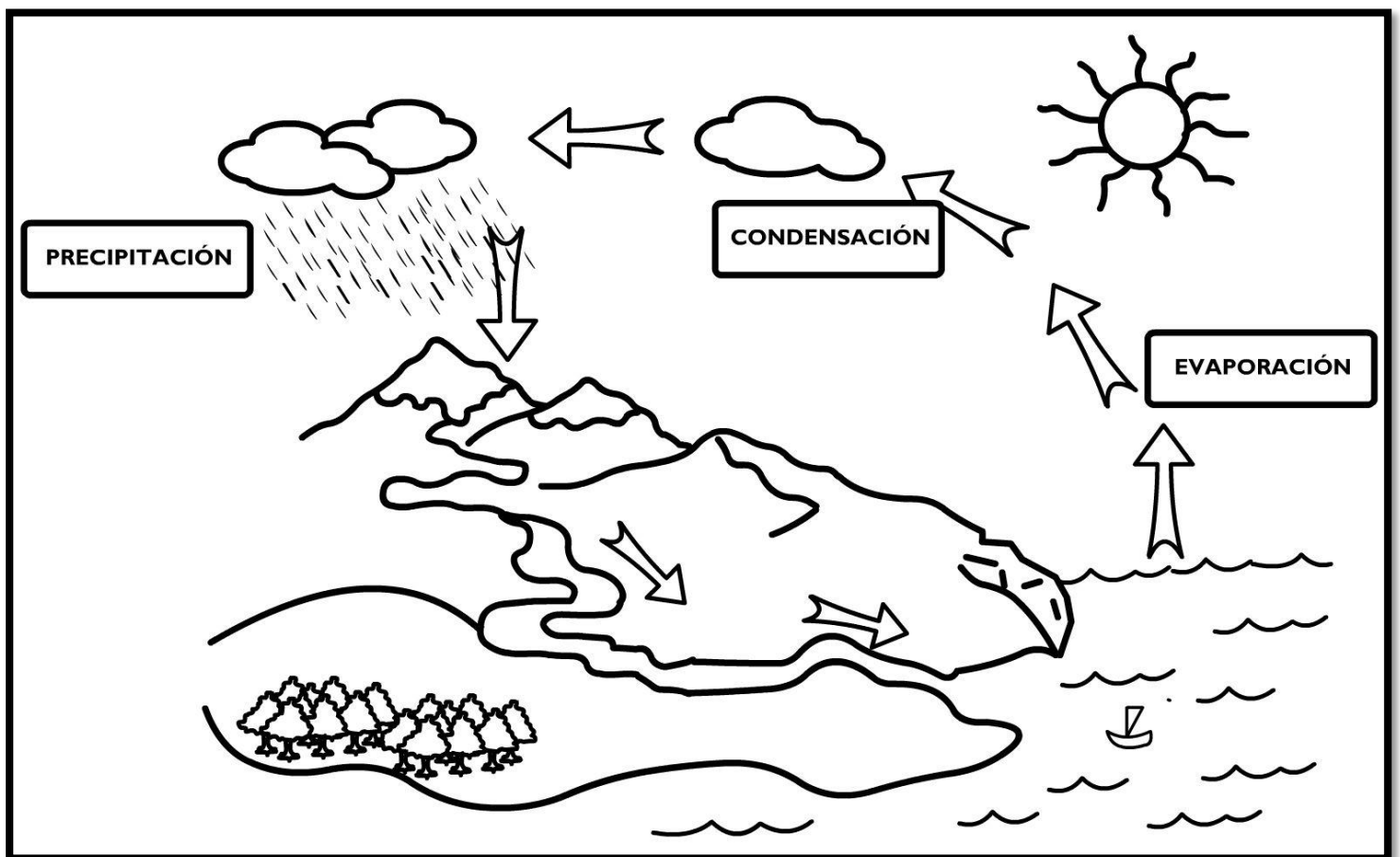
7.- Mi papá es _____

8.- La señora está _____

Área Educación Estética: El Ciclo del Agua

Actividad: En tu block dibuja el ciclo del agua

(Modelo)



Jueves 21/05/2020

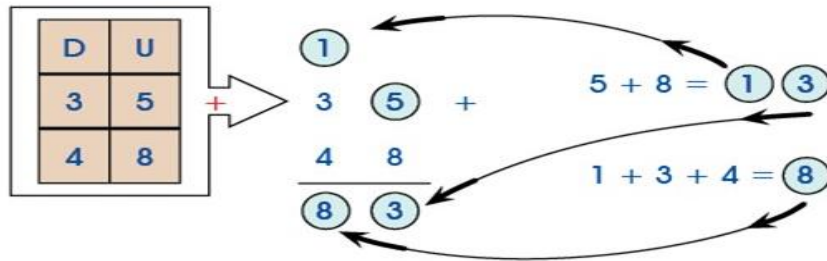
Área Matemática: Seguimos repasando adición llevando




PRIMER GRADO

ADICIÓN LLEVANDO


MATEMÁTICA




Actividad: En tu cuaderno de matemática, resuelve los siguientes ejercicios:




2	5
2	5




4	8
1	8




3	7
3	5



5	6
1	6



3	9
0	5





5	6
2	4



Área Lengua (Comprensión Lectora):

Actividad: Lee cada una de las oraciones. Colorea el círculo con la (V) si lo que leíste es verdadero, o colorea el círculo con la (F) si lo que leíste es falso. Ejemplos:

	El sol es amarillo	<input checked="" type="radio"/> V <input type="radio"/> F
	La mariposa es negra	<input type="radio"/> V <input checked="" type="radio"/> F

ELBLOGDESAMI.ORG		
	La taza es azul.	<input type="radio"/> V <input type="radio"/> F
	El coche es rojo.	<input type="radio"/> V <input type="radio"/> F
	La pelota es verde.	<input type="radio"/> V <input type="radio"/> F
	La flor es amarilla.	<input type="radio"/> V <input type="radio"/> F
	La manzana es verde.	<input type="radio"/> V <input type="radio"/> F
	El globo es rojo.	<input type="radio"/> V <input type="radio"/> F
	El limón es amarillo.	<input type="radio"/> V <input type="radio"/> F
	La lana es azul.	<input type="radio"/> V <input type="radio"/> F
	La alfombra es verde.	<input type="radio"/> V <input type="radio"/> F
	La mantequilla es amarilla.	<input type="radio"/> V <input type="radio"/> F
	La zapatilla es azul.	<input type="radio"/> V <input type="radio"/> F
	El lápiz es rojo.	<input type="radio"/> V <input type="radio"/> F

Viernes 22/05/2020

Área Sociales: 23 de mayo Día Nacional de la Orquídea y el Turpial.

Símbolos naturales del país: El 23 de mayo de 1951, por decreto oficial fue declarada la orquídea como Flor Nacional luego de una exhaustiva investigación de la Sociedad Venezolana de Ciencias Naturales.

La Orquídea venezolana es originaria de la Cordillera de la Costa y responde al nombre científico de *Cattleya Mossiae*; aunque es comúnmente conocida como Flor de Mayo. El primer hallazgo de esta flor en el país data de 1839.

En cuanto al Turpial, esta ave fue decretada como Ave Nacional de Venezuela el 23 de mayo de 1958, a través de un concurso promovido por la Sociedad Venezolana de Ciencias. Pasando a formar parte de los símbolos nacionales de Venezuela junto al Araguaney y la Orquídea.

Actividad: En tu cuaderno de sociales, colorea o recorta y pega el Turpial y la Orquídea.



Área Matemática:

Actividad: Colorea según el resultado:

0

1

2

3

4

Colorea

según

el

resultado

