



República Bolivariana de Venezuela  
Ministerio para el Poder Popular de la Educación  
Unidad Educativa “Nuestra Señora de Lourdes”

## Actividades de 1er grado B

Docente: Rosmarvis Malaver

**¡PRONTO NOS VEREMOS!**



**SEMANA DEL 11/05 AL 22/05/2020**

shutterstock.com • 1580607754

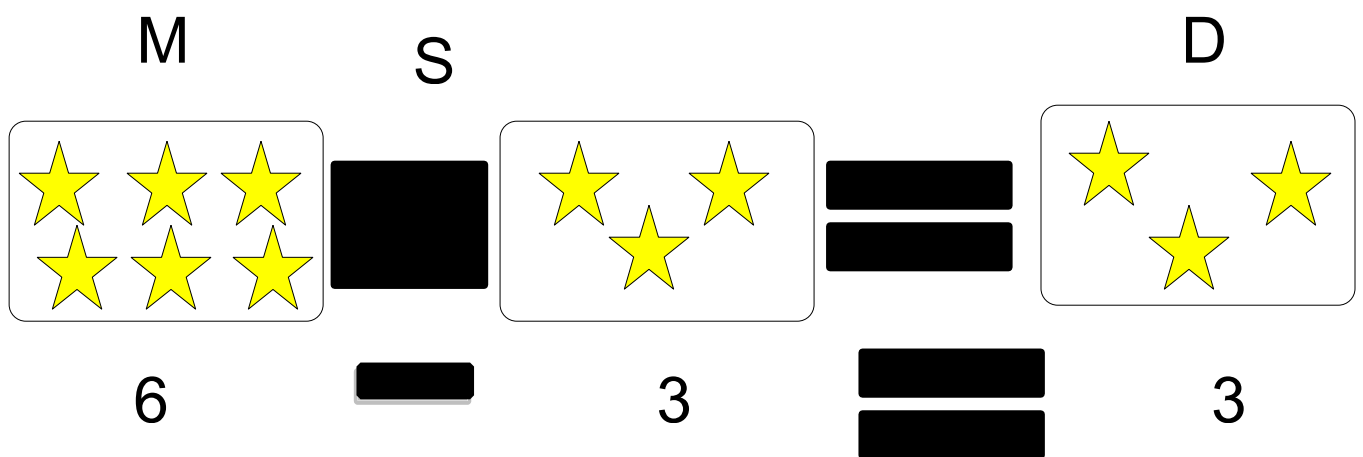
### **Indicaciones:**

- Realizar cuidadosamente las actividades asignadas.
- Lavarse las manos con agua y jabón antes de comenzar las actividades.
- Tener a la mano lápiz, colores, sacapuntas, borra, entre otros.
- Hacer las tareas en un ambiente bien iluminado.
- Se recomienda revisar el material a trabajar y ofrecer al niño una explicación previa de lo que debe hacer, promover los buenos hábitos de trabajo y realizarlos en orden y aseado.
- Las asignaciones deben ser orientados por un adulto.
- Las actividades deben ser escritas en letra cursiva.
- Elogiar el desempeño, reconocer su esfuerzo y dedicación.

LUNES 11/05/2020

**Área: Matemática: La Sustracción:**












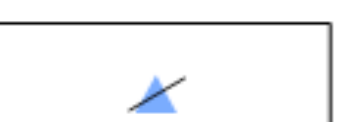



**La Sustracción:** Sustracción también conocida como resta, es una operación que consiste en sacar, recortar, empequeñecer, reducir o separar algo de un todo. **Restar** es una de las operaciones esenciales de la matemática y se considera como la más simple junto a la suma, que es el proceso inverso. Ejemplo:



**Partes de la Sustracción o resta**

- **MINUENDO:** Es la cantidad mayor. Es el primer término de la operación.
- **SUSTRAENDO:** Es la cantidad con el menor valor, y ocupa el segundo término en la operación.
- **DIFERENCIA:** Es el resultado de la operación realizada.
- **SIGNO MENOS:** Es el signo matemático que indica la operación, se lee signo menos

**Actividad:** Resuelve en tu cuaderno de matemática las siguientes sustracciones.

 $4 - 3 = \underline{\quad}$	 $8 - 1 = \underline{\quad}$	 $9 - 8 = \underline{\quad}$
 $10 - 7 = \underline{\quad}$	 $3 - 3 = \underline{\quad}$	 $7 - 2 = \underline{\quad}$
 $8 - 6 = \underline{\quad}$	 $10 - 9 = \underline{\quad}$	 $9 - 1 = \underline{\quad}$
 $5 - 5 = \underline{\quad}$	 $9 - 6 = \underline{\quad}$	 $1 - 1 = \underline{\quad}$
 $7 - 6 = \underline{\quad}$	 $8 - 4 = \underline{\quad}$	 $9 - 2 = \underline{\quad}$



## Área: Lengua: Los Sustantivos

Recuerda que los Sustantivos pueden ser:

- Los **sustantivos comunes** se refieren a las personas, animales, plantas y objetos en general.

*Por ejemplo: pizarra, árbol, montaña, pluma...*

- Los **sustantivos propios** sirven para identificar a las personas, animales, plantas o lugares, y distinguirlos de los demás.

### Actividad

# ¿PROPIO O COMÚN?

Colorea el cuadro propio o común para cada sustantivo según corresponda.

 caballo <input type="checkbox"/> Común <input type="checkbox"/> Propio	 México <input type="checkbox"/> Común <input type="checkbox"/> Propio	 Fifo <input type="checkbox"/> Común <input type="checkbox"/> Propio
 Wilbur <input type="checkbox"/> Común <input type="checkbox"/> Propio	 Johnny <input type="checkbox"/> Común <input type="checkbox"/> Propio	 iglesia <input type="checkbox"/> Común <input type="checkbox"/> Propio
 abuela <input type="checkbox"/> Común <input type="checkbox"/> Propio	 tienda <input type="checkbox"/> Común <input type="checkbox"/> Propio	 niña <input type="checkbox"/> Común <input type="checkbox"/> Propio

Martes 12/05/2020

## Área Ciencias Naturales: El ciclo del agua

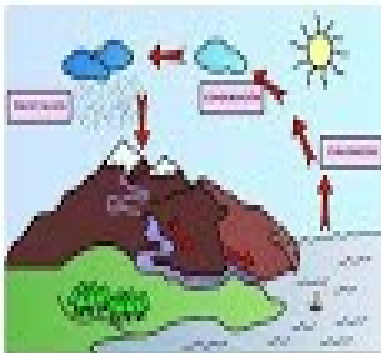
### El ciclo del agua.

#### Es:


- El camino circular que el agua sigue en la naturaleza.
- No se detiene nunca.
- En ese camino, el agua cambia de estado y de lugar.

#### Tiene tres fases:

- **Evaporación:** El sol calienta el agua líquida del mar, ríos y lagos. Parte de este agua se evapora y se transforma en **vapor de agua**.
- **Condensación:** El vapor de agua se enfría y se forman gotitas de agua (**las nubes**).
- **Precipitación:** El agua de las nubes cae en forma de **lluvia, nieve o granizo**. Este agua llega a los arroyos, ríos, mares y aguas subterráneas.



**Actividad:** En el cuaderno de ciencias naturales dibuja y colorea el ciclo del agua.



### **Área Sociales:**

#### **Día de la Enfermera y Enfermero.**

El 12 de mayo el mundo celebra el Día Internacional de la Enfermería, fecha promulgada por la Organización Mundial de la Salud (OMS) y celebrada en Venezuela desde 1947, en honor a quienes aportan sus conocimientos para salvar vidas.



**Actividad:**

Resuelve la siguiente sopa de letra.

 **28** Busca las palabras en la sopa de letras.

AMBULANCIA  
CLÍNICA  
EMERGENCIA  
ENFERMERA


HOSPITAL  
MEDICINA  
MÉDICO  
SANIDAD



S	V	A	I	I	A	C	Z
C	Z	S	R	D	I	L	E
E	F	A	A	G	C	I	Z
M	H	N	M	L	N	N	K
E	O	I	A	J	A	I	I
R	S	D	A	L	L	C	O
G	P	A	R	B	U	A	G
E	I	D	E	S	B	E	E
N	T	O	M	X	M	J	B
C	A	Z	R	D	A	K	L
I	L	M	E	D	I	C	O
A	W	G	F	Z	C	G	L
M	H	U	N	Y	O	G	N
G	J	X	E	F	J	D	U
A	N	I	C	I	D	E	M

Miércoles 13/05/2020

**Área: Matemática**

En tu cuaderno de matemática:

- 1.- Hacer los números del 800 al 850.
- 2.- Ordena y resuelve las siguientes sustracciones:

- a)  $450-230$ .
- b)  $311-101$ .
- c)  $639-426$ .
- d)  $571-270$ .
- e)  $999-878$ .
- f)  $836-435$ .



**Área: Lengua:** Vamos a repasarlos sustantivos.

**Actividad:**

1. En el cuaderno de lengua recorta y pega 6 sustantivos propios y 6 sustantivos comunes.
2. Lee cada palabra y escribe en el cuaderno de lengua si es un sustantivo propio o común.

- a) Venezuela. \_\_\_\_\_
- b) Pamela \_\_\_\_\_
- c) gato. \_\_\_\_\_
- d) amiga. \_\_\_\_\_
- e) Luis. \_\_\_\_\_
- f) mesa. \_\_\_\_\_
- g) puerta. \_\_\_\_\_
- h) papa. \_\_\_\_\_





**Área: Matemática:** Vamos a repasar las restas

**Actividad:** En tu cuaderno de matemática ordena y resuelve las siguientes restas.

- a)  $786-485$
- b)  $799-623$
- c)  $212-100$
- d)  $245-025$
- e)  $456-324$ .



**Viernes 15/05/20**

**Área: Lengua:** Comprensión Lectora:





## El cuento.

La maestra Rosario lee un cuento para todos sus alumnos. Es un cuento sobre animales.

Los alumnos están sentados muy atentos escuchando a la maestra Rosario. A ellos les gusta mucho que les cuenten cuentos.

Rubén con playera amarilla, Rito con playera verde y Rebeca con blusa azul.

**Actividad:** En el cuaderno de lengua responde las siguientes preguntas.

- 1) ¿Cómo se llama la maestra?
- 2) ¿De qué color es la playera de Rito?
- 3) ¿De qué color es la playera de Rubén?
- 4) ¿De qué color es la blusa de Rebeca?




shutterstock.com • 107426141


### **Área: Educación Estética:**

#### El Día Internacional de la Familia

Se celebra el 15 de mayo. Este día fue proclamado por la Asamblea General de las Naciones Unidas en 1994, considerando que el núcleo familiar es parte importante en los procesos sociales, demográficos y económicos. La Organización de las Naciones Unidas promueve el Día Internacional de la Familia a nivel mundial.



**Actividad:** Colorea esta linda familia.



**LUNES 18/05/2020**

**Área: Matemática:** Adición Llevando

## Sumas Llevando

Para sumar llevando números de dos cifras, suma primero las unidades. Después, suma las decenas teniendo en cuenta las decenas que te llevas.

1.º Suma las unidades. Como son más de 9, lleva 1 decena a su columna.

$$\begin{array}{r} \text{D} \quad \text{U} \\ \textcircled{1} \\ 2 \quad 8 \\ + 1 \quad 5 \\ \hline \textcircled{1} \quad 3 \end{array}$$

2.º Suma las decenas sin olvidar la decena que te llevas.

$$\begin{array}{r} \text{D} \quad \text{U} \\ \textcircled{1} \\ 2 \quad 8 \\ + 1 \quad 5 \\ \hline 4 \quad 3 \end{array}$$

Ejemplos:

①

28 +

$$\begin{array}{r} 1 \quad 5 \\ \hline 4 \quad 3 \end{array}$$

4 3

①

36 +

$$\begin{array}{r} 3 \quad 6 \\ \hline 7 \quad 2 \end{array}$$

7 2

①

47 +

$$\begin{array}{r} 1 \quad 6 \\ \hline 6 \quad 3 \end{array}$$

6 3

**Actividad:** En tu cuaderno de matemáticas, resuelve los siguientes ejercicios:

- 1) 25+37
- 2) 47+19
- 3) 55+18
- 4) 35+56



## Área: Lengua: Adjetivos.

Los adjetivos son palabras que nos dicen cómo son o cómo están las personas, animales y las cosas. Acompañan a los sustantivos.

### Ejemplo:

- La niña es **rubia**.
- El piso es **blanco**.
- La comida esta **sabrosa**.

**Actividad:** En el cuaderno de lengua subraya los adjetivos de cada oración:

- 1) Laura es inteligente.
- 2) Juan es muy alto.
- 3) El balón está muy sucio.
- 4) El pastel esa muy dulce.
- 5) La sopa está muy caliente.



Martes 19/05/2020

**Área: Ciencias Naturales: El Ciclo del Agua o Ciclo Hidrológico**

El ciclo hidrológico es el conjunto de transferencias de agua entre la atmósfera, tierra y mar en sus tres estados: Sólido, líquido y gaseoso.



**Actividad: En** el cuaderno de naturaleza escribe V si es verdadero y F si es falso.

La nieve es agua en estado sólido.

El agua al sol no puede convertirse en vapor de agua.

El agua de una piscina está en estado líquido.

El agua tiene color azul.

El agua no tiene sabor.

**Área: Matemática:** repasando adición llevando.

**Actividad:** En tu cuaderno de matemática, resuelve los siguientes ejercicios:

$\begin{array}{r} 36 \\ + 97 \\ \hline \end{array}$	$\begin{array}{r} 94 \\ + 35 \\ \hline \end{array}$	$\begin{array}{r} 97 \\ + 96 \\ \hline \end{array}$	$\begin{array}{r} 87 \\ + 72 \\ \hline \end{array}$
$\begin{array}{r} 66 \\ + 94 \\ \hline \end{array}$	$\begin{array}{r} 71 \\ + 33 \\ \hline \end{array}$	$\begin{array}{r} 37 \\ + 63 \\ \hline \end{array}$	$\begin{array}{r} 77 \\ + 33 \\ \hline \end{array}$
$\begin{array}{r} 84 \\ + 56 \\ \hline \end{array}$	$\begin{array}{r} 68 \\ + 25 \\ \hline \end{array}$	$\begin{array}{r} 87 \\ + 30 \\ \hline \end{array}$	$\begin{array}{r} 12 \\ + 67 \\ \hline \end{array}$
$\begin{array}{r} 20 \\ + 37 \\ \hline \end{array}$	$\begin{array}{r} 34 \\ + 35 \\ \hline \end{array}$	$\begin{array}{r} 92 \\ + 34 \\ \hline \end{array}$	$\begin{array}{r} 91 \\ + 19 \\ \hline \end{array}$



**Miércoles 20/05/2020**

**Área: Sociales: Estado Anzoátegui.**

**Anzoátegui** es uno de los veintitrés estados que, junto con el Distrito Capital y las Dependencias Federales, forman Venezuela. Su capital y ciudad más poblada es Barcelona. Está ubicado en la región nororiental del país, limitando al norte con el mar Caribe (océano Atlántico), al noreste con Sucre, al este con Monagas, al sur con el río Orinoco que lo separa de Bolívar, al oeste con Guárico y al noroeste con Miranda. Con 43 300 km<sup>2</sup> es el sexto Estado más extenso (por detrás de Bolívar, Amazonas, Apure, Guárico y Zulia) y con 2 103 856 habitantes, siendo (según el INE de Venezuela) el séptimo más poblado, por detrás de Zulia, Miranda, Carabobo, Distrito Capital, Lara y Aragua.

Posee 21 municipios autónomos y 49 parroquias civiles. Sus principales ciudades son Barcelona, Puerto La Cruz, Puerto Píritu, Píritu, Pariaguán, Lechería, Guanta, El Tigre, Anaco y Cantaura.

**Actividad:** En tu cuaderno de sociales responde las siguientes preguntas:

- a) ¿Cómo se llama el estado donde vives?
- b) ¿Cómo se llama el gobernador del estado?
- c) ¿Cuál es la capital de estado Anzoátegui?
- d) ¿Cuáles son las principales ciudades del estado Anzoátegui?
- e) ¿Cómo se llama el sector donde vives?



## Área: Lengua: Los Adjetivos

**Actividad:** En tu cuaderno de lengua, completa las siguientes oraciones con los adjetivos que creas conveniente.

- Andrea es una niña \_\_\_\_\_ y responsable.
- Mi gato micifuz es \_\_\_\_\_, \_\_\_\_\_.
- Diego y yo somos graciosos y \_\_\_\_\_, siempre seremos los mejores amigos.
- Mi colegio es \_\_\_\_\_, \_\_\_\_\_ por eso me siento muy feliz.

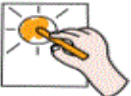
**Jueves 21/05/2020**

Actividad de concentración.


Lee.

p	y	y	u	d	p	q	b
d	q	p	b	d	p	q	d
d	b	p	q	b	p	d	d
b	p	q	q	p	d	b	b
d	p	b	q	q	p	b	d
p	b	q	q	p	p	d	b
d	p	b	d	q	p	d	b

Colorea cada letra de su color.



Escribe la cantidad que has coloreado .



p =

b =

q =

d =

aulapt.org

**Área: Lengua: Comprensión lectora.**

**Niños Alrededor del Mundo**



Hay niños en todo nuestro planeta tierra. No todos hablamos el mismo idioma, pero todos fuimos creados por Dios. Algunos tienen la piel blanca o morena. Algunos tienen el pelo café, rubio o rojizo. También los niños tienen diferentes costumbres. Dios fue muy creativo por eso no somos todos iguales ¡y es hermoso que seamos todos diferentes! Me gusta conocer a otros que no son iguales a mí.

**Actividad:** Escribe una V si es verdadero o F si es falso.

- \_\_\_\_\_ No hay niños en todo el planeta tierra.
- \_\_\_\_\_ Todos hablamos el mismo idioma.
- \_\_\_\_\_ Todos fuimos creados por Dios.
- \_\_\_\_\_ Todos tienen piel blanca.
- \_\_\_\_\_ Algunos tienen el pelo café, rubio o rojizo.
- \_\_\_\_\_ ¡Es hermoso que todos seamos diferentes!



Viernes 22/05/2020

**Área: Sociales: 23 de mayo Día Nacional de la Orquídea y el Turpial.**



### **La Orquídea es la Flor Nacional de Venezuela**

La Orquídea de nombre *Cattleya mossiae* fue decretada como la flor nacional de Venezuela el 23 de mayo de 1951. Su nombre le rinde honor al botánico William Cattley, quien fue el primero en lograr su reproducción en un invernadero en 1818. También es conocida como la “Flor de Mayo”



### **El Turpial es el Ave Nacional de Venezuela**

El 23 de mayo de 1958 fue declarada Ave Nacional de Venezuela, tras un concurso promovido por la Sociedad Venezolana de Ciencias. Lo acompañan como símbolos Nacionales de Venezuela el **Araguaney** y la Orquídea.

### **Área: Educación Estética**

**Actividad:** En el block dibuja o recorta y pega la Flor Nacional de Venezuela y el Ave Nacional de Venezuela