



República Bolivariana de Venezuela
Ministerio para el Poder Popular de la Educación
Unidad Educativa “Nuestra Señora de Lourdes”
Puerto La Cruz, Estado Anzoátegui.

GUIA DE ESTUDIO III LAPSO
Actividades de 2do grado
Docente: Carol Masías
SEMANAS DEL 08/06/2020 al 19/06/2020.

¡Esfuézate para tener éxito!

Indicaciones:

- Utiliza los links recomendados para ampliar tus conocimientos en el tema.
- Realiza las actividades asignadas.
- Lávate las manos antes de proceder a la realización de esta guía.
- Realiza las actividades en un ambiente bien iluminado.
- Realiza las actividades en letras cursivas.
- **Realiza las actividades en los respectivos cuadernos.**



Lunes 08/ 06/ 2020.

• **Área Matemáticas:**

Relación de masa.

- **La masa:** es la cantidad de materia que tiene un objeto. Para establecer relaciones de masa utilizamos expresiones como pesa más, pesa menos, más pesado o menos pesado.

puedes observar y aprender: ¿Cuál pesa más?



Las dos gomas pesan
igual



El sacapuntas pesa
menos que el lápiz



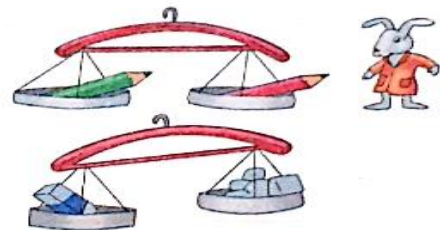
La goma pesa más
que el sacapuntas

El plato que queda más abajo contiene el objeto de mayor peso.

Observa y contesta

Los 2 lápices pesan _____

Las goma pesa _____



1. Realiza en tu cuaderno de matemáticas las actividades 1, 2, 3 y 4 de la página 216 y 217 de tu guía Integral Caracol.

Efeméride del día: 8 de junio, Día de los Océanos.

Hoy 8 de junio se celebra el Día de los Océanos, fecha establecida por la Organización de las Naciones Unidas con el objetivo de reconocer la importancia que tienen los océanos para todas las especies marinas y su importancia para el mundo.

1. Dibuja un océano con algunas especies marinas, tómale una foto y luego pásalo por el grupo de Whatsapp para que todos podamos ver tu lindo dibujo.

Martes 09/ 06/ 2020.

• Área Lengua:

Los títeres.

En el teatro de títeres las historias son representadas con muñecos en un teatrino, detrás del cual se esconden los titiriteros y las personas encargadas de los efectos especiales, tales como: ruidos de animales, sonidos de máquinas, luces de colores, etc.





1. Con la ayuda de tu representante elabora un títere con material que tengas en casa y **el día viernes 05 de junio** pasa un pequeño vídeo por el grupo de whatsapp mostrándolo, explicando cómo lo hiciste y que materiales utilizaste.

Miércoles 10/ 06/ 2020.

• Área Matemática:

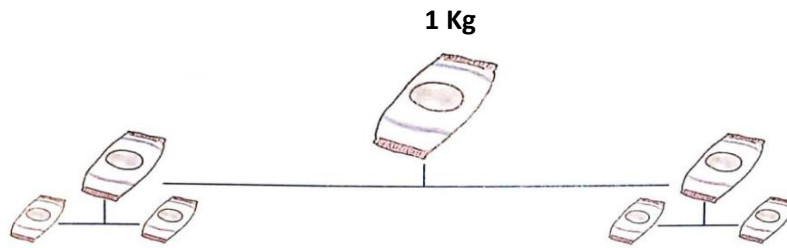
El kilogramo.

Frutas y hortalizas bien ordenadas.



Algunos alimentos se compran en el mercado por unidad, por ejemplo, la piña, los plátanos, y otros se compran por kilogramo.

El **kilogramo** o **kilo** es la unidad de las medidas de peso más empleada.
kilogramo = kilo = **Kg**.



1 kilo = 2 medios kilos = 4 cuartos de kilo

En el mercado puedes observar diferentes instrumentos que se utilizan para pesar los alimentos:



Para complementar tus conocimientos ingresa al siguiente enlace de video: <https://youtu.be/Xq1dnm40dHI>

1. Realiza las actividades 1, 2, 3 y 4 de la página 219 de tu guía Integral Caracol.



Jueves 11/ 06/ 2020.

• Área Lengua:

1. Realiza las siguientes actividades en el cuaderno de lengua.

1. **Completo** con la palabra que corresponda.

copla

trabalenguas

retahíla


adivanzas

chiste

- Las _____ describen algo de una manera disimulada para que descubramos qué es.
- La _____ es un pequeño poema que suele cantarse.
- Una _____ es una serie de cosas que se mencionan en orden una tras otra.
- Un _____ es un dicho o suceso gracioso.
- Un _____ es una frase difícil de pronunciar.

2. **Leo** en voz alta y **resuelvo** las adivanzas.

Ladrillos y ladrillos,
tejas y tejas,
yeso y cemento
¿Quién los maneja?



No es una planta,
pero tiene hojas
y nos enseña
muchas cosas.



Con una red,
con una caña,
peces y peces
saca del agua.



Rasca que rasca el papel:
hago números y letras
o el dibujo de un clavel.
¿Quién soy?






Viernes 12/ 06/ 2020.

- **Área Ciencias:**

El experimento.

Es realizar acciones destinadas a descubrir o comprobar ciertos fenómenos.

Los experimentos son necesarios para afirmar conocimientos teóricos por medio de experiencias totalmente prácticas.



1. Con material que tengas en casa realiza un experimento sencillo y grábalo explicando los pasos y el resultado de éste, luego colócalo en el grupo de whatsapp el día **viernes 19 de junio** para poder verlo, evaluarlo y aprender un poco más.



Lunes 15/ 06/ 2020.

- **Área Matemáticas:**

Recolección y organización de datos.

- **La recolección de datos:** consiste en registrar información relacionada con un tema. Para recolectar datos podemos usar una encuesta, la cuál consiste en realizar preguntas escritas u orales.

La organización de datos: podemos organizar los datos en una tabla de frecuencias, donde indicamos en cada fila la cantidad de veces que se repite un dato.

La frecuencia.

La frecuencia es el número de veces que se repite un dato dentro de un conjunto.
Veamos el ejemplo:



color	conteo	frecuencia
verde	///	3
azul	//////	5
negro	//	2
rojo	////	4

La tabla de datos.

Una tabla de datos es un instrumento que nos permite organizar información.

¿Cómo hacer una tabla de datos?

Contamos las veces que se repite cada dato.

Seleccionamos la característica con la que vamos a trabajar.

Cantidad de personas	conteo	frecuencia
niñas	□	5
niños	□ □	7
docentes	□	2
Total		14

Calculamos el total de datos recolectados.

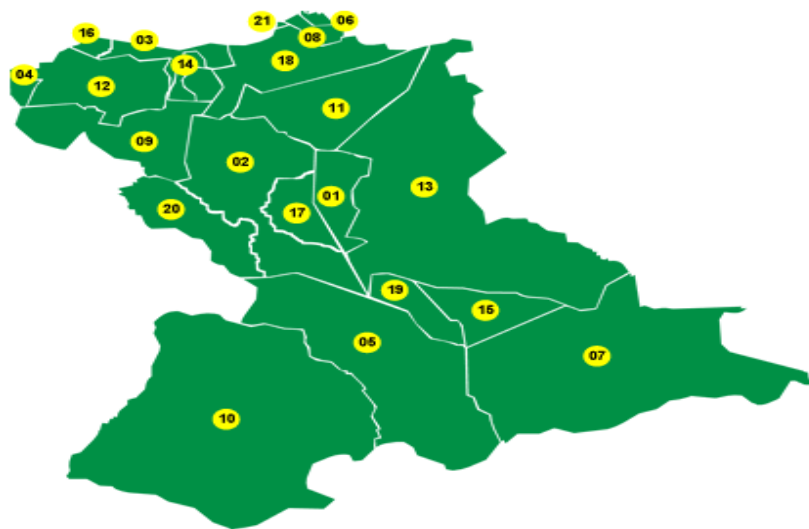
1. Realiza las actividades 1 y 2 de la página 231 de tu guía Integral Caracol.

Martes 16/ 06/ 2020.

- **Área Sociales:**

Municipios del Estado Anzoátegui.

Los Municipios son divisiones territoriales regidos por un alcalde. El Estado Anzoátegui consta de 21 municipios como lo podemos ver en la siguiente imagen:



- | | |
|---------------------------------|----------------------------|
| 1 Anaco | 12 Manuel Ezquiél Bruzual |
| 2 Aragua | 13 Pedro María Freites |
| 3 Fernando Peñalver | 14 Píritu |
| 4 Francisco del Carmen Carvajal | 15 San José de Guanipa |
| 5 Francisco de Miranda | 16 San Juan de Capistrano |
| 6 Guanta | 17 Santa Ana |
| 7 Independencia | 18 Simón Bolívar |
| 8 Juan Antonio Sotillo | 19 Simón Rodríguez |
| 9 Juan Manuel Cajigal | 20 Sir Arthur Mc Gregor |
| 10 José Gregorio Monagas | 21 Diego Bautista Urbaneja |
| 11 Libertad | |

1. **Responde las siguientes preguntas en el cuaderno de proyecto:**
 - ❖ ¿Cómo se llama el Municipio donde se encuentra situado nuestro Colegio?
 - ❖ ¿Cuál es el nombre del Municipio donde vives?
 - ❖ Nombra los Municipios que conoces del Estado Anzoátegui.

Miércoles 17/ 06/ 2020.

- **Área Matemáticas:**

Diagrama de barras.

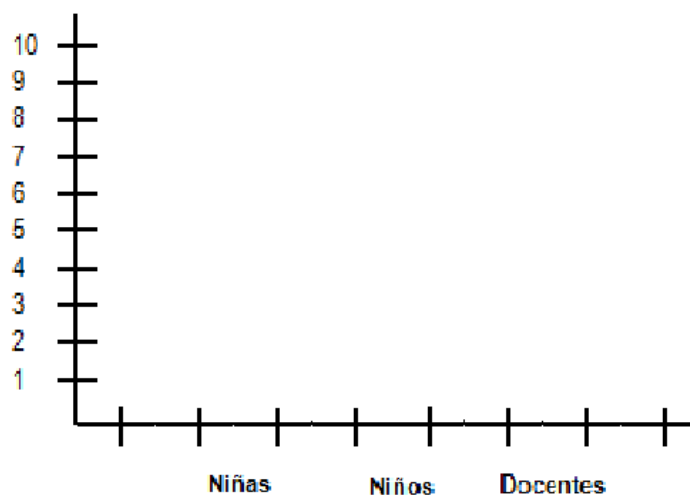
Un diagrama de barras es una gráfica en el que representamos con rectángulos la frecuencia de un conjunto de datos.

¿Cómo hacer un diagrama de barras?

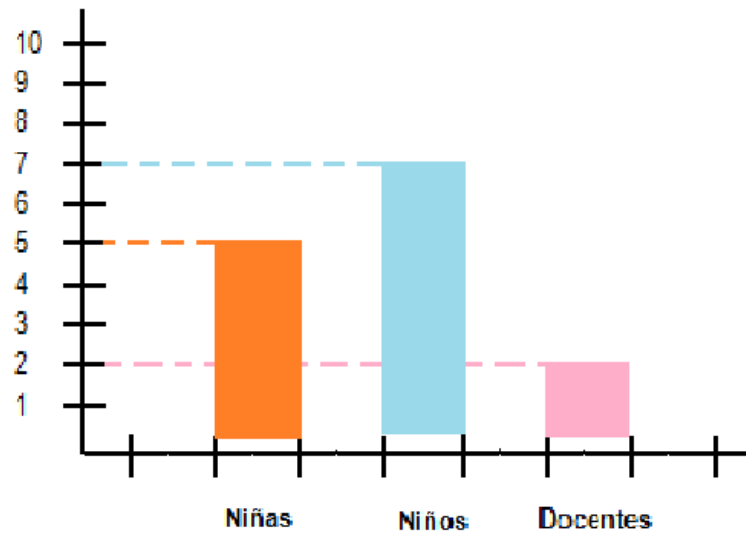
1) Organizamos la información en una tabla de datos.

Cantidad de personas	Conteo	Frecuencia
Niñas	☐	5
Niños	☐	7
Docentes		2
	Total	14

2) Trazamos una línea horizontal para ubicar los datos y una vertical para ubicar la frecuencia.



3) Trazamos los rectángulos que representan cada frecuencia.



2. Realiza las actividades 1 y 2 de la página 233 de tu guía Integral Caracol.

Jueves 18/ 06/ 2020.


- **Área Sociales:**

Municipios más cercanos de nuestro entorno.

☆ **Municipio Sotillo:** es uno de los 21 municipios que encontramos en el Estado Anzoátegui, éste se encuentra ubicado al norte del estado y cuenta con lugares turísticos tales como:



El Paseo de La Cruz y El Mar



Salto Canaimitas

- ✧ **Municipio Bolívar:** se encuentra ubicado también al norte de nuestro estado y lleva su nombre por nuestro Prócer de la Independencia Simón Bolívar. En este municipio prevalecen lugares de nuestro casco histórico y la sede de gobernación del estado, así como otro lugares de interés:



La Casa Fuerte

- ✧ **Municipio Urbaneja:** Su nombre oficial es *Municipio Turístico El Morro Licenciado Diego Bautista Urbaneja*, siendo el único municipio del país con el adjetivo "Turístico" y el que posee el nombre más largo. De igual forma es el municipio más pequeño del estado y de Venezuela. Cuenta con sitios turísticos como:



Cerro El Morro



El Fortín de la Magdalena

- ✧ **Municipio Guanta:** está ubicado al noreste de Anzoátegui, limita al norte con el Mar Caribe, al sur y al oeste con el Municipio Sotillo y al este limita con el Estado Sucre. Cuenta con espacios turístico como:



Isla de Plata



Parque La Sirena

2. Dibuja el mapa del Estado Anzoátegui y colorea los municipios Sotillo, Guanta, Urbaneja y Bolívar.

Viernes 19/ 06/ 2020.

- Área Matemáticas:

El pictograma.

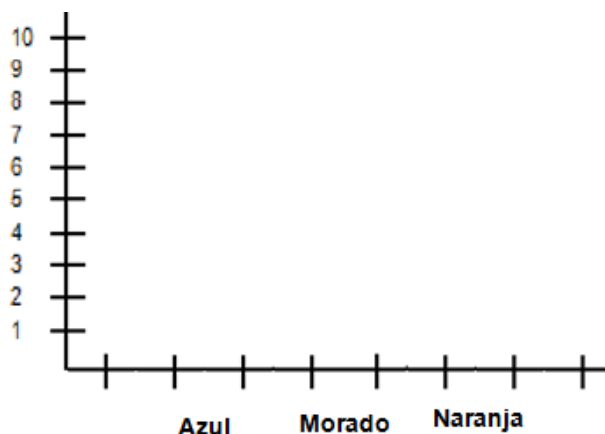
Un pictograma es un gráfico en el que representamos con símbolos o dibujos la frecuencia de un conjunto de datos.

¿Cómo hacer un pictograma?

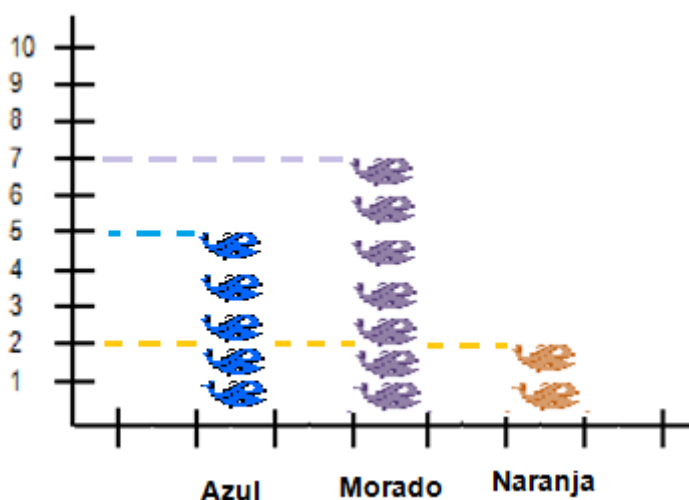
- 1) Organizamos la información en una tabla de datos.

Color de los peces	Conteo	Frecuencia
Azul	☐	5
Morado	☐┌	7
Naranja	┌	2
	Total	14

- 2) Trazamos una línea horizontal para ubicar los datos y una vertical para ubicar la frecuencia.



- 3) Realizamos los símbolos o los dibujos que representan cada frecuencia.



3. Realiza las actividades 1 y 2 de la página 235 de tu guía Integral Caracol.

Efeméride del día: Día del Padre.

El Día del Padre en Venezuela, se celebra el tercer domingo del mes de junio. En esta fecha no solamente se rinde tributo al padre, sino también a todos aquellos hombres que actúan como figuras paternas, como son los padrastros, tíos, abuelos, y en general aquellos que contribuyen en nuestra crianza.

1. Dibuja y colorea este lindo dibujo para papá en su día.

