



República Bolivariana de Venezuela
Ministerio para el Poder Popular de la Educación
Unidad Educativa “Nuestra Señora de Lourdes”
Puerto La Cruz, Estado Anzoátegui.

GUIA DE ESTUDIO III LAPSO

Actividades de 3do grado B

Docente: Dorismar Moreno

SEMANA DEL 08/06AL 19/06/2020

¡DIOS LOS BENDIGA!



Recomendaciones.

- ✓ **Lavar las manos con agua y jabón antes de iniciar las actividades.**
- ✓ **Recuerda realizar las actividades en un área iluminada y limpia,**
- ✓ **Toma en cuenta lo que siempre te recomiendo en el aula con respecto a la limpieza y pulcritud en la presentación de tus actividades.**
- ✓ **Tener a mano lápiz, colores, sacapuntas, borrador y hoja blanca si es necesario.**

Lunes 08 de junio

Área: Ciencias



8 de junio Día Mundial de los Océanos

El 8 de junio se celebra el **Día Mundial de los Océanos**, una fecha establecida por la ONU con el objetivo de reconocer la importancia que tienen los océanos para todas las especies, ya que representan el principal pulmón del planeta, y son los responsables de generar el oxígeno y lograr el equilibrio ecológico tanto acuático como terrestre.

Actividad:

Responder:

¿Por qué los océanos son importantes?

Martes09 de junio

Área: Lenguaje

Reforzando lo aprendido: Clasificación de las palabras

- 1) Coloca en cada columna las palabras agudas, graves y esdrújulas según convengan:

Benjamín, tímpano, símil, pedazo, acabarás, periódico, café, vidrio, kilómetro, extrañaré, maniquí, lápiz, árbol, caimán, zapato, canción, autobús, perro, hígado , pájaro, música.

Agudas	Graves	Esdrújulas

- 2) Coloca el acento gráfico donde corresponde:

Pension ,cabello, programa, colegio , estudiar , azul, periodico, facil rápido, medico, camisa, feliz, thermo , eter , cabello,hermano maleta, marron

Miercoles09 de junio

Área: Matemática

Tabla de frecuencia

Una tabla de frecuencia es un recurso que utilizamos para ordenar datos de forma organizada y clara.





Para ordenar la información se debe hacer lo siguiente:

1. Escribimos los datos que vamos a organizar
2. Contamos las veces que se repite cada dato
3. Totalizamos las veces que se repite la cada dato
4. Calculamos el total de datos recolectados

Nota: la frecuencia es la cantidad de veces que se repite un dato

Ejemplo de cómo ordenar en la tabla de frecuencia



Estrellas de colores	Conteo	Frecuencia
Azules		5
Rosadas		4
Verdes		5
moradas		4
	Total	18

Actividad:

Realizar las actividades de la página 233 de la guía

Jueves 11 de junio

Área: Lenguaje

Leo las palabras en los siguientes recuadros, selecciono 5 personajes y 2 ambientes, escribo un cuento y lo ilustro

Niño, periodista, bailarina, mamá profesora, niña, actor, actriz de televisión, vendedora de juguetes, papá, pescador, abuela, abuelo

La playa, el cine, el desierto, un restaurante, una bodega, la montaña

Viernes 12 de junio

Área: Matemática

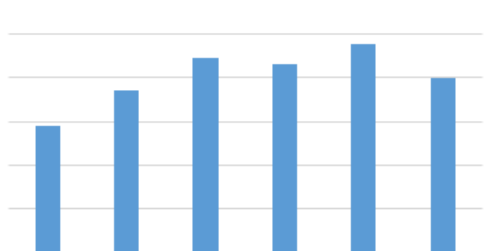


Diagrama de barra

Un diagrama de barra es un gráfico donde utilizamos barras o rectángulos para representar la frecuencia de un conjunto de datos de manera ordenada

Para organizar la información en un diagrama de barra se debe hacer lo siguiente:

1. Organizamos los datos en una tabla
2. Trazamos una línea horizontal y ubicamos los datos ,y una línea vertical y anotamos las frecuencias
3. Dibujamos una barra por cada dato, de modo que la altura de la barra alcance la frecuencia del dato

Nota: la frecuencia es la cantidad de veces que se repite un dato

Actividad:

Realizar las actividades de las páginas 234 y 235 de la guía.

Lunes 15 de junio

Área: Matemática

Pictograma

Un pictograma es un gráfico en el que utilizamos imágenes para representar ordenadamente una información

Actividad:

Realizar la actividad de la página 235 de la guía.

Martes 16 de junio

Área: Lenguaje

Sustituir las imágenes por las palabras correspondientes y luego dibujar y colorear sobre el tema



Miércoles 17 de junio

Área: Matemática



Fracciones equivalentes

Son aquellas fracciones que representan la misma cantidad.

Para identificar si una fracción es equivalente se debe hacer lo siguiente:

$$\frac{1}{2} \text{ y } \frac{2}{4}$$

Se multiplica el numerador de la fracción número 1 con el denominador de la fracción número dos

Luego se multiplica el numerador de la fracción número 2 con el denominador de la fracción número 1

Paso 1

$$1 \times 4 = 4.$$

Paso 2

$2 \times 2 = 4$. Esta fracción es equivalente

Actividad:

Realizar las actividades de las páginas 156 y 157 de la guía

Jueves 18 de junio

Área: Lenguaje

1) Completa el siguiente texto con adjetivos para describir personas

Carlota es una niña muy _____ bonita y _____. Tiene el cabello _____ y de color _____. Siempre se viste con camisa de _____ y un sombrero de _____. Como es muy _____ tiene muchos amigos.

2) Completa el cuadro con palabras que se escriban con LL

VERBOS	SUSTANTIVOS	ADJETIVOS
llegar	ballena	llano

Viernes 19 de junio

Área: Estética

Elabora una linda tarjeta para tu papá, tómate una foto entregándola.

MIS AMORES
QUE TENGAN
MUY FELIZ
FIN DE SEMANA
LES DESEA
LA SEÑO.....

