

U.E Nuestra Señora de Lourdes

6to grado sección A

Docente: Ana Sanzonetti



3era Guía Tercer Lapso:

Anzoátegui tierra de historia

Semana del 11/05 al 22/05/20

Lunes 11/05/20

Área: Lengua y matemática

- ✚ En la página 62 de la enciclopedia encontrarás los sustantivos y sus tipos, escribe la definición de cada uno de ellos. Te invito a ver los siguientes tutoriales

<https://www.youtube.com/watch?v=4fyDdhUcJgU>

<https://www.youtube.com/watch?v=p0eyWoajuP8>

Luego realiza las siguientes actividades:

- ❖ Escribe el singular o plural según el caso:

- | | |
|---------------|------------|
| a) Convoy: | f) Reloj: |
| b) Álbum: | g) Clubes: |
| c) Pez: | h) Ají: |
| d) Cáliz: | i) Pie: |
| e) Atlántico: | j) Azúcar: |

- ❖ Subraya con rojo los nombres comunes y en azul los nombres propios. Coloca en mayúsculas los nombres propios, ejemplo: Puerto La Cruz

puerto la cruz, es una ciudad portuaria ubicada en el estado anzoátegui en venezuela, capital del municipio sotillo, y para el año 2012 contaba con una población de 454.312 habitantes. Se encuentra unida a la capital del

estado, barcelona, también a su vez con lechería y guanta, conformando así el área metropolitana más grande e importante del oriente de Venezuela con más de 1.200.000 habitantes. Puerto La Cruz es una de las ciudades más importantes del estado Anzoátegui. Dada su excelente ubicación geográfica e interconexión con las ciudades de Lecherías y Barcelona (la capital del estado), está provista de cierto poder económico, además de ser un centro turístico con un alto desarrollo, que alberga a cientos de turistas que visitan la zona por sus hermosas playas.

- Escribe 3 sustantivos de cada tipo: individuales, colectivos, concretos, y abstractos.

✚ Reforcemos: Une con una línea y resuelve las siguientes ecuaciones

El triple de colores que tengo más siete es igual a diez colores

$$2X - 4 = 16$$

El doble de mis páginas más cuatro es igual a diez

$$3X + 7 = 10$$

El triple de un número es igual a ocho menos el quintuple del mismo número, ¿Cuál es el número?

$$2X + 4 = 10$$

El doble de una distancia menos cuatro es igual a dieciséis metros.

$$3X = 8 - 5X$$

Martes 12/05/20

Área: Naturaleza y matemática

Lee y analiza el contenido de las páginas 272 y 273 de la enciclopedia y respondo las siguientes actividades:

- a) Defino el término electricidad.
- b) Une con una línea los tipos de materiales de la columna de la izquierda con las propiedades eléctricas en la columna de la derecha.

CONDUCTORES

AISLANTE

TROZO DE MADERA

CADENA DE ORO

TIJERA DE HIERRO

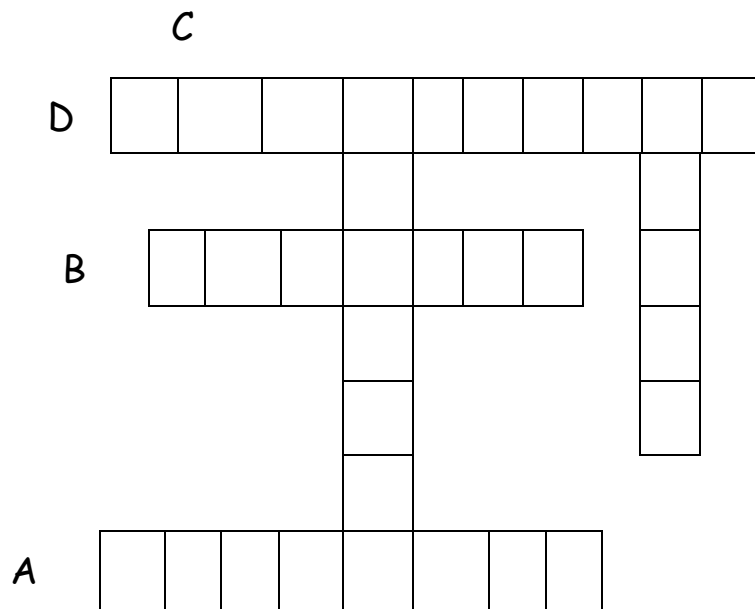
CAUCHO DE CARRO

ALAMBRE DE COBRE

PELOTA DE PLÁSTICO

c) Completa las frases y el crucigrama:

- A) La madera es un material: _____
- B) La _____ es un dispositivo que genera electricidad.
- C) La electricidad es una forma de _____
- D) La electricidad fluye a través de los _____ conductores.
- E) El _____ es un metal utilizado para el cableado eléctrico.



- ✚ Investigar en la página 170 y 171
 - 1) ¿Qué son las medianas de un triángulo?
 - 2) ¿A qué llamamos Baricentro?
 - 3) ¿Qué es la bisectriz de un triángulo?
 - 4) ¿Qué es el incentro?

Miércoles 13/05/20

Área: Sociales y lengua

- ✚ Investiga en las páginas 338 y 339
 - a) ¿Cuándo ocurrió la Guerra Federal?
 - b) ¿Quiénes eran los Liberales y los Conservadores?
 - c) ¿Cuáles fueron las causas y consecuencias de la Guerra Federal?
 - d) ¿Qué es el tratado de Coche?

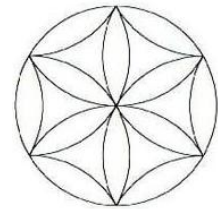

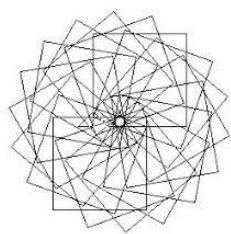
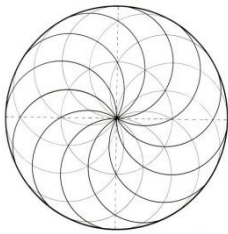
- ✚ Identifica en las siguientes oraciones: sujeto, verbo, predicado, sustantivos y tipos de sustantivos.
 - a) El Paseo Colón está lejos del colegio
 - b) El enjambre es grande
 - c) Luis y José juegan fútbol en Playa Lido
 - d) Puerto La Cruz tiene hermosas playas
 - e) Andrea siente mucho amor por su mascota

- f) La mesa del comedor esta sucia
- g) Andrés llevo una metra azul para el recreo

Jueves 14/05/20

Área de Estética

- ✚ Te envio un juego para que lo disfruten en familia y aprendamos un poco más sobre cultura general:
<https://www.youtube.com/watch?v=aG0rHm8UC5Q>
- ✚ Dibuja figuras geométricas y crea tu propio diseño de mandala, a continuación te dejo varios modelos, puedes escoger uno de ellos o crear uno, ¡Inténtalo!



Viernes 15/05/20

Matemática y sociales

- ✚ Evaluación sobre el tema: **La aparición del petróleo**, páginas 328 y 329. Dicha evaluación estará estructurada con preguntas de selección y completación.
- ✚ Seguimos reforzando:

Hallar el m.c.m y M.C.D de:

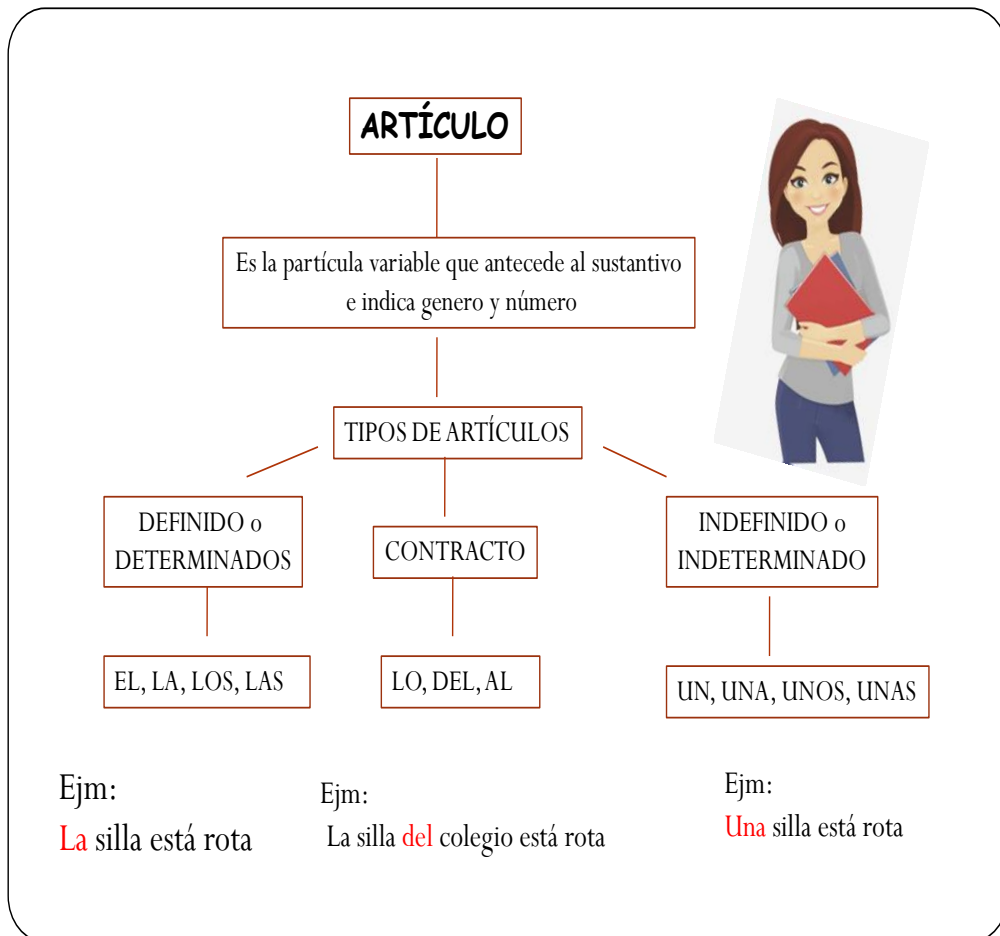
- 1) 35 y 105
- 2) 27; 36 y 9
- 3) 72 y 24

Semana del 18 al 22/05/20

Lunes 18/05/20

Área: Lengua

- Los sustantivos pueden aparecer solos o acompañados de otros elementos. Éstos se denominan modificadores y mantienen una relación de concordancia con el sustantivo al que modifican. Las palabras que realizan esa función son los artículos y los adjetivos.



ADJETIVOS

Es la palabra que expresa cualidades o características de los sustantivos. Pueden ubicarse antes o después del sustantivo

Pueden ser

Demostrativos

Posesivos

Numerales

Indefinidos

Calificativos

Expresan la distancia entre el hablante y los objetos que señala

Este, esa, aquel

Expresan la pertenencia de algo

Mío, suyo, tuyo

Expresan Cantidad o secuencia

Primero, dos quinto, etc

Expresan Cantidad o existencia

Alguna, algunos

Otorgan características al sustantivo

La casa **amarilla**
El calor **sofocante**

✚ Identifica en las siguientes oraciones: sujeto, verbo, predicado, artículos y adjetivos.

- Mi casa está lejos del Paseo Colón
- La biblioteca de la escuela tiene libros maravillosos
- Rafael quedó en primer lugar
- Las hojas de aquella planta están verdes como la mía

Martes 19/05/20

Área: Matemática y sociales

✚ Realiza las actividades 2 y 3 de la pagina 173 de la enciclopedia

✚ Exposición grupal sobre el tema: **De la sociedad agropecuaria a la petrolera**



Miércoles 20/05/20

Área: Lengua

- ✚ En las páginas 64 y 65 de la enciclopedia podrás ampliar el contenido sobre los **Pronombres Personales**. Luego responde las actividades.

Los **PRONOMBRES PERSONALES** son aquellas palabras que sirven para nombrar a las personas sin decir su nombre.



Jueves 21/05/20

Área: Matemática

- ✚ Lee la página 172 de la enciclopedia y responde las siguientes preguntas:

- 1) ¿Qué es la altura de un triángulo?
- 2) ¿Cuántas alturas se pueden trazar en un triángulo?
- 3) ¿Cuáles son los tipos de triángulos?
- 4) ¿Cómo se llama el punto donde se cortan las alturas de un triángulo?
- 5) Realiza la actividad número 4 de la página 173



Viernes 22/05/20 Área: Lengua

✚ Completa las siguientes oraciones con pronombres personales:

- a) El policía.....pidió el número de la placa de su coche.
- b) No encuentro mi libro ¿Dónde.....has puesto?
- c) Sara..... escribió un mensaje
- d) El médicoha recetado un jarabe para la tos

✚ Transforma las frases sustituyendo las palabras destacadas por pronombres personales:

- a) He prestado un libro **a mi compañero** sobre historia de Anzoátegui
- b) Luis siempre cuenta chistes **a sus amigos**.

✚ Investiga cuándo se celebra el Día Nacional de la Orquídea y el Turpial y realiza un dibujo sobre ellos.

✚ Resuelve la siguiente sopa de letra

F	E	K	B	L	X	K	Y	C	S	Z	R	B	M
D	E	A	I	Q	L	C	U	J	V	O	V	A	J
A	D	Q	S	A	T	I	O	I	Q	S	Q	R	I
A	D	W	E	C	G	R	B	T	E	R	F	I	N
L	V	I	C	U	G	C	T	R	M	E	F	C	C
T	W	E	T	T	A	U	U	I	E	C	X	E	E
U	C	C	R	Á	S	N	S	Á	D	T	K	N	N
R	O	G	I	N	G	C	Á	N	I	Á	M	T	T
A	S	M	Z	G	H	E	N	G	A	N	E	R	R
W	I	O	D	U	Z	N	G	U	T	G	D	O	O
W	B	W	I	L	Z	T	U	L	R	U	I	A	V
B	J	K	L	O	A	R	L	O	I	L	A	M	J
F	N	J	H	T	O	O	O	P	Z	O	N	T	C
Y	E	J	Y	T	J	F	B	C	B	T	A	Q	F

ACUTÁNGULO	ALTURA
BARICENTRO	BISECTRIZ
CIRCUNCENTRO	INCENTRO
MEDIANA	MEDIATRIZ
OBTUSÁNGULO	RECTÁNGULO
TRIÁNGULO	