



República Bolivariana de Venezuela
Ministerio para el Poder Popular de la Educación
Unidad Educativa “Nuestra Señora de Lourdes”

Actividades de 1er grado Sección B

Docente: Rosmarvys Malaver



¡SI SE PUEDE!

SEMANA DEL 20/04 AL 24/04/2020

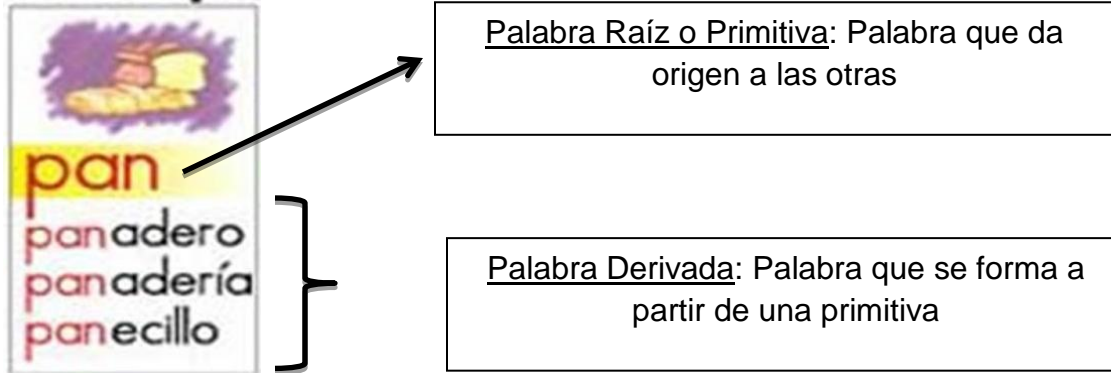
Indicaciones:

- Realizar cuidadosamente las actividades asignadas.
- Lavarse las manos con agua y jabón antes de comenzar las actividades.
- Tener a la mano lápiz, colores, sacapuntas, borra, entre otros.
- Hacer las tareas en un ambiente bien iluminado.
- Se recomienda revisar el material a trabajar y ofrecer al niño una explicación previa de lo que debe hacer, promover los buenos hábitos de trabajo y realizarlos en orden y aseado.
- Las asignaciones deben ser orientados por un adulto.
- Las actividades deben ser escritas en letra cursiva.
- Elogiar el desempeño del niño (a) y reconocer su esfuerzo y dedicación.

LUNES 20/04/20

Área: Lengua

* Familia de Palabras: La familia de palabras; también llamada familia léxica, es un conjunto de palabras que comparten la misma raíz. Ejemplo:



Actividad: Forma la familia de palabras de:

FRUTA

[Empty red box]

[Empty red box]

[Empty red box]

Área: Sociales

1.-Con la ayuda de tus padres colorea en el mapa de Venezuela, el Estado donde vives: El Estado Anzoátegui.



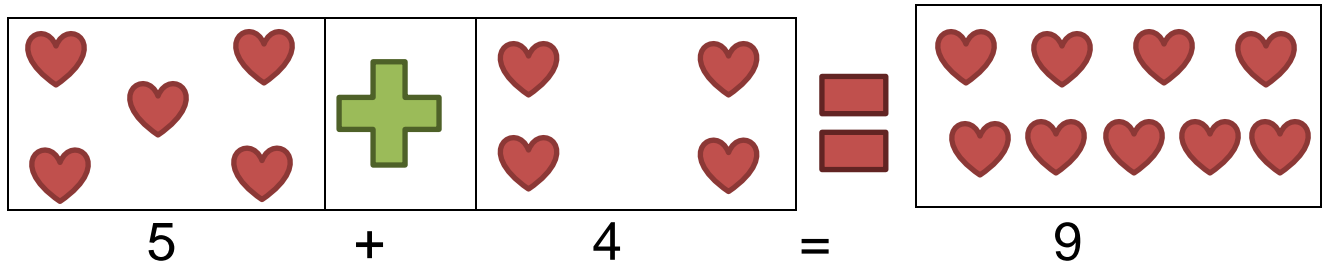
2.- Luego, responde las siguientes preguntas:

- 1.- ¿Cuál es el nombre de la capital del Estado?
- 2.- ¿Cuál es el nombre del Gobernador?
- 3.- ¿Cuáles son los Colores de la bandera de nuestro Estado?
- 4.- ¿Cuál es la letra y música de su Himno?

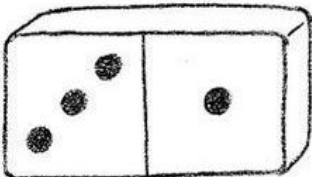
Martes 21/04/20:

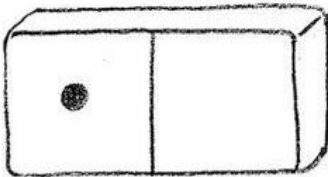
Área: Matemática

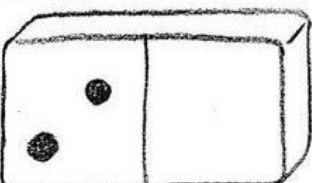
La Adición: La **adición** es una operación básica que se representa con el signo "+" que consiste en combinar o añadir dos números o más para obtener una cantidad. Ejemplo:

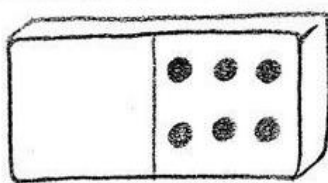



Actividad: Siguiendo el modelo, resuelve las siguientes adiciones; escribe el resultado y colorea las imágenes

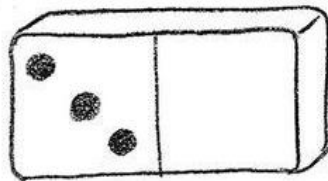
1 
3 + 1 = 4

2 
1 + 4 = ___

3 
2 + 4 = ___

4 
3 + 6 = ___

5 
___ + 3 = ___

6 
___ + 5 = ___

Área: Ciencias Naturales

Los Alimentos: Es todo aquello que comemos y bebemos para poder vivir.

Alimentos según su origen



Origen animal:

- Aquellos que derivan de los animales.
- Carne, huevos, leche, mantequilla, pescado, etc.



Origen vegetal:

- Aquellos que derivan de los vegetales.
- Verduras, hortalizas, frutas, legumbres, etc.



Origen mineral:

- Aquellos que derivan de la tierra.
- Agua, sal.

Actividad: Escribe el nombre de tres alimentos según su origen.

DE ORIGEN ANIMAL	DE ORIGEN VEGETAL	DE ORIGEN MINERAL

Miércoles 22/04/2020

Área: Lengua

Actividad: Une con una línea las palabras de la misma familia:

1)

zapato.	. papelerera .	. florido
papel .	. floristería .	. marinero
mar .	. zapatero .	. papelería
flor .	. marino .	. zapatería

2)

Reloj .	.pescadería	. cocinado
Casa .	.relojería	. caserío
Pescado.	.cocinero	. relojero
Cocina .	. casero	. pescadero

Área: Atención y Concentración

Actividad: Encuentra las palabras que se te indican en la siguiente sopa de letras.

Alimento – Comer – Beber - Vegetal – Animal – Mineral – Vitamina

A	N	I	M	A	L	Ñ	P	F	V
L	B	Y	I	J	X	A	Z	E	I
I	M	K	N	H	D	B	G	U	T
M	K	Ñ	E	Y	D	E	J	B	A
E	N	X	R	A	T	B	F	V	M
N	X	H	A	A	Ñ	E	Y	H	I
T	Z	D	L	K	Q	R	K	J	N
O	V	C	O	M	E	R	Q	W	A

Jueves 23/04/2020

Área: Matemática

Actividad: Resuelve el siguiente ejercicio de adición y colorea.



Área: Lengua (Comprensión Lectora)

Actividad: Lee con atención el siguiente texto y responde las preguntas:

El **estado Anzoátegui** está ubicado en el noreste de Venezuela. Limita al norte con el Mar Caribe, al sur con el **estado Bolívar**, al oeste con los **estados Miranda y Guárico** y al este con los **estados Sucre y Monagas**. Su capital es Barcelona.

1.- ¿Dónde está ubicado el estado Anzoátegui?






2.- ¿Con quién limita al norte?






3.- ¿Cuál es la capital de Anzoátegui?






Viernes 24/04/2020

Área: Matemática

Actividad: Resuelve las siguientes adiciones.

	+	<input type="text"/>			+	<input type="text"/>
		<input type="text"/>				<input type="text"/>
		<input type="text"/>				<input type="text"/>

	+	<input type="text"/>			+	<input type="text"/>
		<input type="text"/>				<input type="text"/>
		<input type="text"/>				<input type="text"/>

	+	<input type="text"/>			+	<input type="text"/>
		<input type="text"/>				<input type="text"/>
		<input type="text"/>				<input type="text"/>

Área: Educación Estética

Actividad: En tu block de dibujo con ayuda de tus padres, realiza la silueta del estado Anzoátegui y decóralo con el material de tu preferencia.

